


NOM:
DATA:

CAT

Retalla i posa en ordre les imatges d'aquest conte clàssic. Enumera-les i escriu una frase per a cada imatge. Després escriu el títol del conte.

TÍTOL: _____












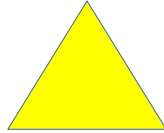


CALCULA LA SUMA DE CADA FILA



1.2. Ara tú escriu nombres més grans ,fins i tot en alguna de les figures pots escriure nombres de dues xifres.

CALCULA LA SUMA DE CADA FILA



							→	
							→	
							→	
							→	
							→	
							→	
							→	
							→	
							→	
							→	

1.3. Aquestes activitats t'ajudaran a treballar l'agilitat visual i la memòria .L'objectiu és sobretot practicar la taula del 3 i la del 4.

COMPLETA LA TAULA

2		6
3	}	9
4		12
5		15
6		18
7		21
8		24
9		27

		9
2	}	
		15
4		
		21
6		
		27
8		

		6
3	}	
		12
5		
		18
7		
		24
9		

		6
3	}	
		12
5		
		18
7		
		24
9		

		9
2	}	
		21
		27
8		
6		
		15
4		

3		
	}	6
		24
		18
5		
		12
9		
7		

2		
	}	9
4		
		15
6		
		21
8		
		27

		9
2	}	
4		
		15
		21
		27
6		
8		

		6
3	}	
		12
5		
7		
		18
9		
		24

1.4.

COMPLETA LA TAULA

2		8
3		12
4		16
5		20
6		24
7		28
8		32
9		36

2		
		12
4		
		20
6		
		28
8		
		36

		8
3		
		16
5		
		24
7		
		32
9		

5		
2		
4		
7		
9		
6		
8		
3		

3		
		8
5		
		16
7		
		24
9		
		32

		16
		12
9		
7		
8		
		20
		24
2		

		20
		12
		8
		16
		32
		28
		24
		36

9		
		12
		16
5		
		8
		28
		32
6		

7		
		12
		16
5		
6		
		8
		36
8		