

Hola nois i noies!


Les orientacions d'Educació Especial no són una feina afegida, sinó que pel contrari són per ajudar-vos a poder fer el que us recomanen els tutors i les tutores per tal de no perdre el ritme de treball. És per això que us fem arribar unes bases d'orientació i pautes a tenir en compte, que us facilitaran les tasques encomanades. Fins aviat!

NOM:

CAT


DATA:

LES NOSTRES COLÒNIES 2019-2020




Qui ha anat? (Jo, classe de 3rB...)


A on? (Lloc, nom casa, muntanya o platja?)




Amb qui? (mestres, amics...)



Quan? (dates, mes, dies de la setmana...)



Què heu fet? (activitats...)



Com ha anat? (t'ha agradat?, repetiries?)

PROPOSTA VISUAL PER TREBALLAR ELS PROBLEMES MATEMÀTICS

Llegeix i observa atentament. Fes el dibuix si ho necessites. Després tria l'operació adequada i finalment pensa si el resultat és possible.

PROBLEMA 1:

En una fruiteria hi ha 5 caixes de pomes amb 1 dotzena a cadascuna.



i 3 caixes de taronges amb 2 dotzenes a cadascuna.



Quantes pomes i taronges hi ha en total?


Dades

Operacions

Resultat

PROBLEMA 2

Calcula el pes de cada peça de fruita:




Operacions

Resultat

PROBLEMA 3

Quant pesa el gos de la Clàudia?



Operacions

Resultat