

1. Veure aquest vídeo per a recordar el cicle de l'aigua

<https://www.youtube.com/watch?v=1mC2YvgNDE>

2. Completar text:

↳ Completa el text sobre el cicle de l'aigua:

cabal

pluja

rius

Sol

núvols

vapor

mar



1 El escalfa l'aigua del . Amb l'escalfor, l'aigua s'evapora, és a dir, passa a l'aire en forma de d'aigua.

2 El vapor d'aigua es converteix en gotes que formen els .

3 Els núvols deixen caure l'aigua en forma de o de neu.

4 L'aigua de la pluja o del desglaç de la neu fa créixer el dels rius.

5 L'aigua dels va a parar al mar. I el cicle torna a començar.

3. Fes un text explicant el cicle de l'aigua a partir d'aquestes paraules. Cal fer servir-les totes, pots anar guixant-les.

| | | | | | |
|-------|---------|------|---------|-------|----------|
| Mar | evapora | Sol | escalfa | vapor | núvols |
| Gotes | neu | rius | llacs | pluja | condensa |

4. Busca onze paraules relacionades amb l'aigua a la sopa de lletres i completa el text següent que t'ajudarà a saber quines paraules has de buscar. Compta que les paraules poden estar en horitzontal, vertical o diagonal.

T'has posat mai a pensar com és realment l'aigua? Descobreix com és buscant les paraules amagades dins aquesta sopa de lletres



| | | | | | | | | | | |
|---|---|---|---|---|---|---|---|---|---|---|
| P | O | M | A | L | G | A | S | T | A | R |
| V | N | E | N | H | I | S | L | P | O | A |
| U | I | F | I | L | D | Q | U | G | J | R |
| B | Z | D | M | V | C | T | U | U | O | F |
| P | U | M | A | N | M | S | D | I | R | S |
| L | L | O | L | E | T | R | O | M | D | X |
| A | T | E | S | C | A | S | S | A | P | L |
| N | U | R | P | E | C | I | O | S | O | B |
| T | N | N | U | V | O | L | S | R | L | C |
| E | B | T | C | A | F | C | O | L | O | R |
| S | O | L | I | D | E | T | M | N | R | T |

Omple els buits amb les paraules que has trobat.

L'aigua no té _____, és transparent i no té ni _____ ni _____.
 La podem trobar en estat _____, en estat _____, i en forma de vapor als _____. És imprescindible per a la _____.
 Sense aigua no poden viure ni els _____ ni les _____. És un bé _____ que cal no _____.

5.

L'aigua la podem trobar de diverses maneres depenent de la temperatura a la qual es troba.
Fixa't de quines maneres podem trobar l'aigua i escriu on en podem trobar de cada estat



.....

.....

.....

.....

.....

.....

.....





6.

Descobreix els llocs on podem trobar l'aigua a partir de les endevinalles següents. Resol-les!

Llarg i prim,
sempre saltant i la mar
m'està esperant.

.....

He nascut a la
muntanya i estic
empresonat entre
muntanyes.

.....

Som el nord i el sud,
i estem gelats
tot l'any.

.....

Visc a la muntanya
quasi tot l'any.
Diríeu que no em moc,
però ho faig molt
a poc a poc.

.....

Escupo, bramo i
marejo. Sóc mirall de
belles donzelles i lilit
per als més grans
viatgers.


.....

Rajolí, rajolinet.
Fes brollar de les
teves muntanyes la set
de l'excursionista.

.....

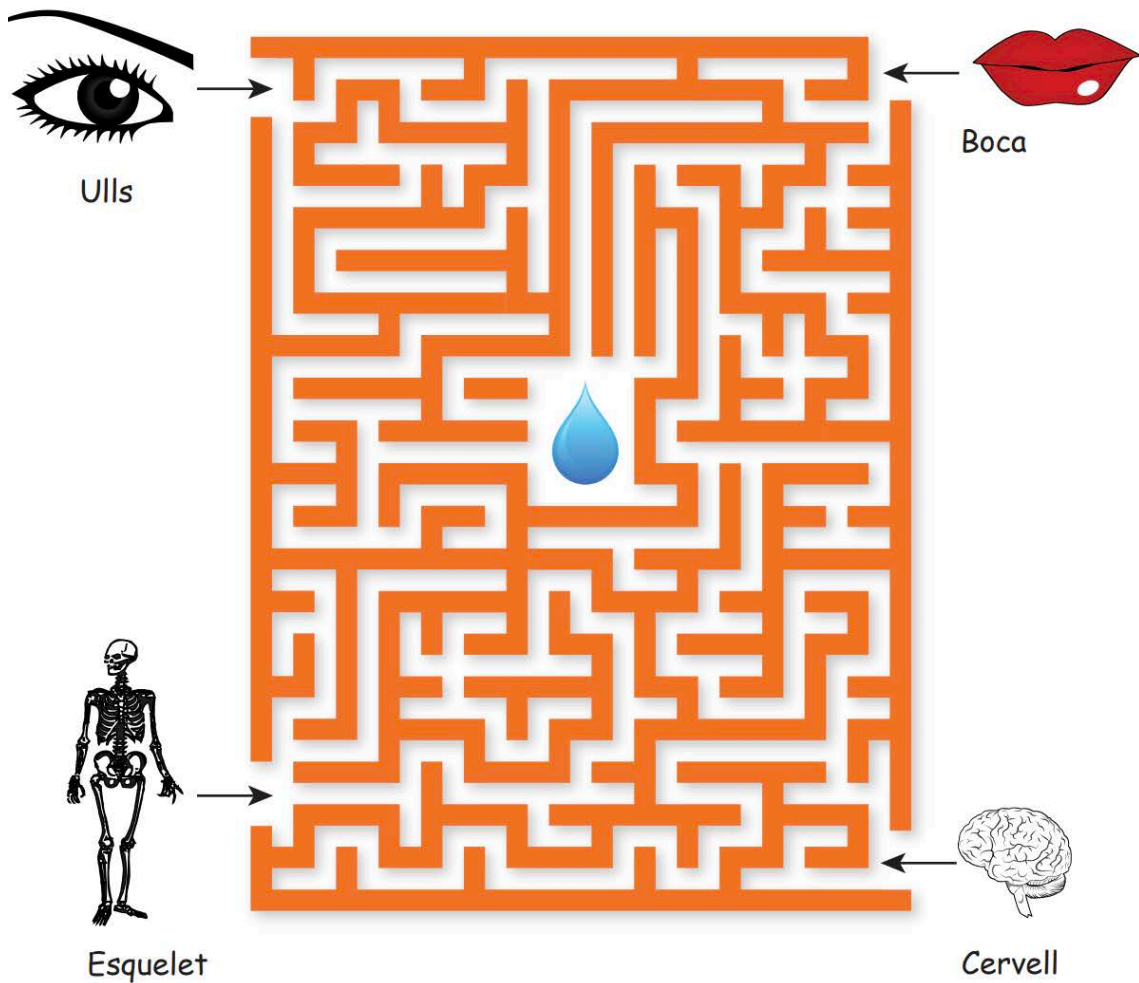
7.

Descobreix quin animal està format per més aigua... Pinta'n el camí!



8.

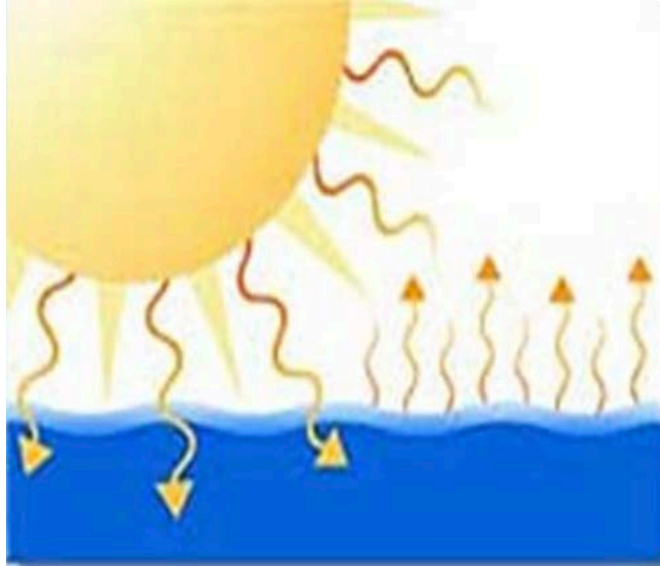
A quina part del cos humà hi ha més aigua? Pinta'n el camí!



9. La gota Rita, pàgina web amb el conte de la gota Rita i 6 activitats. Molt interessant però cal fer-la des de l'ordinador.

<http://www.cristic.com/lagotarita/index.html>

10. A partir de cada imatge escriu que hi passa al cicle de l'aigua:



1. _____



2. _____



3. _____



4. _____



5. _____
