

Nom \_\_\_\_\_ Data \_\_\_\_\_

Al poble d'Elena hi ha 3 urbanitzacions. A la més gran viuen 879 veïns, a la mitjana 564 i a la més menuda 115. Quants veïns viuen a les 3 urbanitzacions?

**1. Comprén.**

Pregunta: \_\_\_\_\_

\_\_\_\_\_


Dades: \_\_\_\_\_

\_\_\_\_\_

**2. Pensa què cal fer.**

- una suma.
- una multiplicació.
- una suma i una multiplicació.

**3. Calcula.**



Solució: \_\_\_\_\_

Al llarg de la setmana, al rentador de cotxes Orts han ingressat aquestes 3 quantitats. Quants diners han guanyat al final de la setmana?



**1. Comprén.**

Pregunta: \_\_\_\_\_

\_\_\_\_\_


Dades: \_\_\_\_\_

\_\_\_\_\_

**2. Pensa què cal fer.**

- una suma.
- una resta.
- una multiplicació.

**3. Calcula.**



Solució: \_\_\_\_\_

Jordi es va gastar 1.769 € en un televisor i Teresa 675 € en una lavadora. Quants diners es va gastar Jordi més que Teresa?

**1. Comprén.**

Pregunta: \_\_\_\_\_

\_\_\_\_\_


Dades: \_\_\_\_\_

\_\_\_\_\_

**2. Pensa què cal fer.**


- una suma.
- una resta.
- una suma i resta.

**3. Calcula.**



Solució: \_\_\_\_\_

Elvira i Carme han participat en una tómbola. Quants punts més que Elvira ha aconseguit Carme en la tómbola?



**1. Comprén.**

Pregunta: \_\_\_\_\_

\_\_\_\_\_


Dades: \_\_\_\_\_

\_\_\_\_\_

**2. Pensa què cal fer.**

- una suma.
- una resta.
- una multiplicació.

**3. Calcula.**



Solució: \_\_\_\_\_