

PROBLEMAS DE MATEMÁTICAS



Nombre: _____ Curso: _____

1.- En la nevera de Luca había 15 yogures. Esta tarde se ha comido 4. ¿Cuántos yogures me quedan?


DATOS

OPERACIONES

SOLUCIÓN: _____



PROBLEMAS DE MATEMÁTICAS



Nombre: _____ Curso: _____


2.- En un autobús viajan 19 niños. En una parada se bajan 8. ¿Cuántos niños quedan en el autobús?

DATOS

OPERACIONES

SOLUCIÓN: _____





PROBLEMAS DE MATEMÁTICAS



Nombre: _____ Curso: _____


3.- Sabina tiene 25 euros. Le compra un collar a su mamá que le cuesta 21 euros. ¿Cuántos euros le quedan a Sabina?

DATOS

OPERACIONES

SOLUCIÓN: _____





PROBLEMAS DE MATEMÁTICAS




Nombre: _____ Curso: _____

4.- Javier compró 23 tijeras para su clase, pero en el patio perdió 11. ¿Cuántas tijeras tiene ahora Javier?

DATOS

OPERACIONES

SOLUCIÓN: _____





PROBLEMAS DE MATEMÁTICAS




Nombre: _____ Curso: _____


5.- Rafa tenía 5 bocadillos en la mochila. En el autobús se ha comido 4. ¿Cuántos bocadillos tiene ahora Rafa?

DATOS

OPERACIONES

SOLUCIÓN: _____





PROBLEMAS DE MATEMÁTICAS

Nombre: _____ Curso: _____

6.- Luz tiene 26 helados. Le da un helado a cada uno de sus 15 amigos y amigas. ¿Cuántos helados le quedan a Luz?

DATOS

OPERACIONES

SOLUCIÓN: _____

