



Nom ..... Data .....

**1.-Escriu 3 accions dolentes pel medi ambient que s'han trobat i com s'haguessin pogut evitar.**

Ho pots fer de dues maneres:

**1a opció**

-Pots fer la feina en un full escrit o a l'ordinador i enviar-me el teu escrit

**2ona opció**


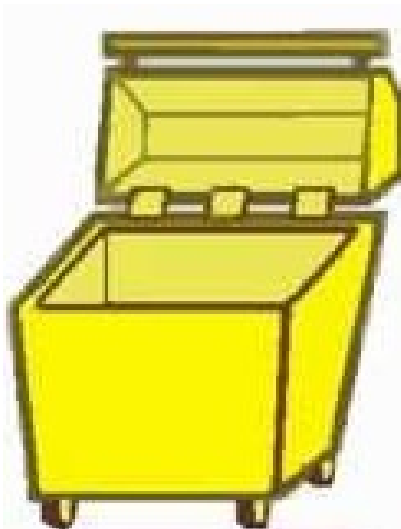
- Pots fer-ho en dibuixos o buscar a l'ordinador imatges que ho expliquin.

1.-.....

2.-.....

3.-.....

**2.- Selecciona 5 deixalles de la imatge i fica-les en el contenidor corresponent.**



Nom ..... Data .....

### OPERACIONS

1.-Resol aquestes operacions :

$\begin{array}{r} 8976 \\ + 6028 \\ \hline \end{array}$	$\begin{array}{r} 50 \\ - 42 \\ \hline \end{array}$	$\begin{array}{r} 496 \\ - 321 \\ \hline \end{array}$	$\begin{array}{r} 796 \\ + 538 \\ + 241 \\ \hline \end{array}$
---	---	---	--

2.-Completa les operacions de dues maneres diferents:

<b>Exemple:</b>	$6 \times 3 = 18$ $6 + 6 + 6 = 18$
-----------------	---------------------------------------

8 + ..... =      7 + ..... =

9 + ..... =      5 + ..... =

8 x ..... = 72      7 x ..... = 35      9 x ..... = 27      5 x ..... = 40

3.-Col.loca i soluciona :

$\begin{array}{r} 345 \\ \times 4 \\ \hline \end{array}$	$\begin{array}{r} 50 \\ \times 6 \\ \hline \end{array}$	$\begin{array}{r} 32 \\ \times 7 \\ \hline \end{array}$	$\begin{array}{r} 813 \\ \times 5 \\ \hline \end{array}$
--	---	---	--

4.-Calcula (pots dibuixar-ho)

el doble de 6:

.	.	.	.	.	.

el doble de 9:


.	.	.	.	.	.	.	.

la meitat de 8:

.	.	.	.


## 5. Problemes

1.-L'Albert ha comprat un joc de 30 € amb els 87 € que tenia estalviats.  
Quants euros li queden?



Dades	Operacions	Resultat

2.- En Joan és 20 cm més alt que en Pere, que fa 115 cm.  
Quina alçada fa en Joan?



Dades	Operacions	Resultat

3.- Quin nombre surt de restar **dues centenes** a 925? i si sumem **2 milers**?  
c d u

Operacions: