

A per la novena setmana!!

Hola com va tot?

Ara que ja podeu sortir al carrer, espero que agafeu molt aire i força per acabar el cursque ja no falta res !!

UN PENSAMENT
POSITIU AL MATÍ
ET POT CANVIAR
TOT EL DIA.

Aquesta setmana no heu de retornar-me les feines si no voleu. Són activitats per practicar alguna estratègia de càlcul mental i per posar a prova la vostra lògica ,rapidesa i observació.

Una abraçada

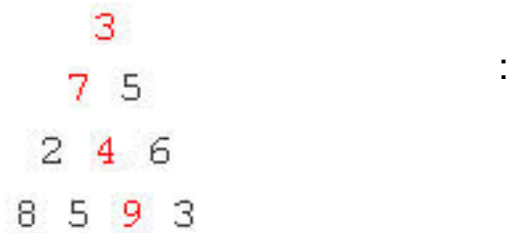
Pilar O

E.E

MATEMÀTIQUES

ELS TRIANGLES NUMÈRICS

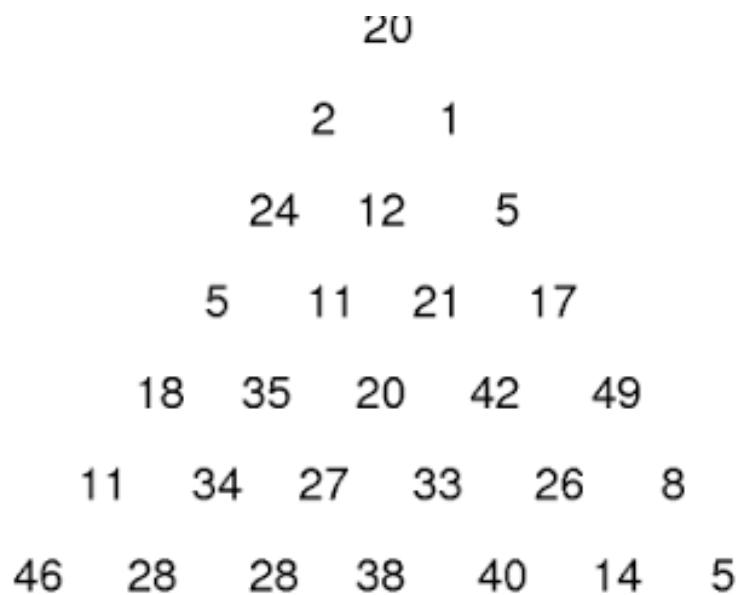
Observa aquest triangle:



Començant des de la part de dalt del triangle (3) i movent-te als nombres dels costats, sempre en sentit cap a baix, la suma màxima que es pot obtenir és 23 (hi ha altres camins, però no surt un resultat més alt.)

$$\text{Ex: } 3+7+4+9=23$$

1.-Seguint les mateixes regles, troba el valor màxim per el triangle de sota:



ENDEVINALLES MATEMÀTIQUES.....

Posa el rellotge en marxa i mira atentament:

1.-Quin nombre no es repeteix?.....

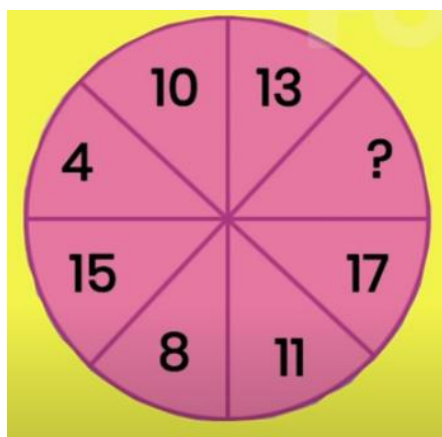
15''



921360586712
354086075159

2.-Quin nombre falta?

1'



3.-Com mediries 4 litres exactes?

3'



Explica els passos a seguir a l'exercici 2 i 3:

.....

.....

.....