

## PROBLEMES VISUALS

Observa a la taula quants llibres hi ha de cada tipus.



TIPUS DE LLIBRE	NÚMERO DE LLIBRES
Llibres d'aventures	203
Llibres d'experiments	86
Contes	527
Llibres d'animals	345
Llibres de plantes	108

1. Quants llibre d'aventures i contes hi ha en total a la biblioteca?

$$\begin{array}{r}
 \boxed{\phantom{000}} \\
 \boxed{\phantom{000}} \\
 \hline
 \boxed{\phantom{000}}
 \end{array}$$

Resposta:

2. Quants contes i llibres de plantes hi ha en total a la biblioteca?

$$\begin{array}{r}
 \boxed{\phantom{000}} \\
 \boxed{\phantom{000}} \\
 \hline
 \boxed{\phantom{000}}
 \end{array}$$


Resposta:

**54** En una classe hi ha 29 nens  
i 5 porten ulleres.  
Quants nens no porten ulleres?

*Operació:*  sumar  restar

*Resposta:*

---




**55** Un trencaclosques té 96 peces.  
Si falta posar-hi 42 peces,  
quantes n'hi ha de posades?

*Operació:*  sumar  restar

*Resposta:*

---




**56** La Montserrat ha venut 14 bufandes,  
3 jaquetes i 62 gorres. Quantes peces  
de roba ha venut en total?

*Operació:*  sumar  restar

*Resposta:*

---



**57** En Felip ha de fer 64 punts per guanyar  
un concurs i encara li falten 33 punts.  
Quants punts ha fet?

*Operació:*  sumar  restar

*Resposta:*

---

