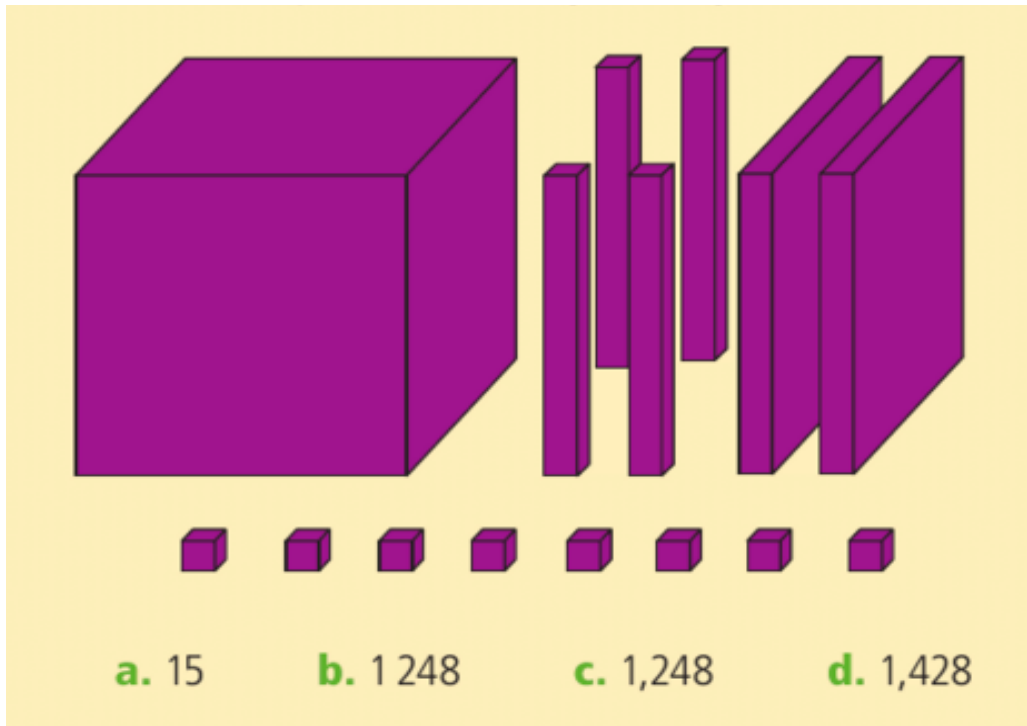


RESOLUCIÓ DE PROBLEMES




Si el cub gran representa la unitat, quin nombre decimal representen les figures següents?



En acabar el curs, 4 alumnes regalen a la professora una brúixola per orientar-se i un llibre de rutes de senderisme. Si en total s'han gastat 73,84 €, i tothom hi ha posat la mateixa quantitat, quant hi ha posat cadascú?

3

Completa les masses dels pesos perquè aquesta balança es mantingui en equilibri, tenint en compte que els pesos del mateix color tenen la mateixa massa.

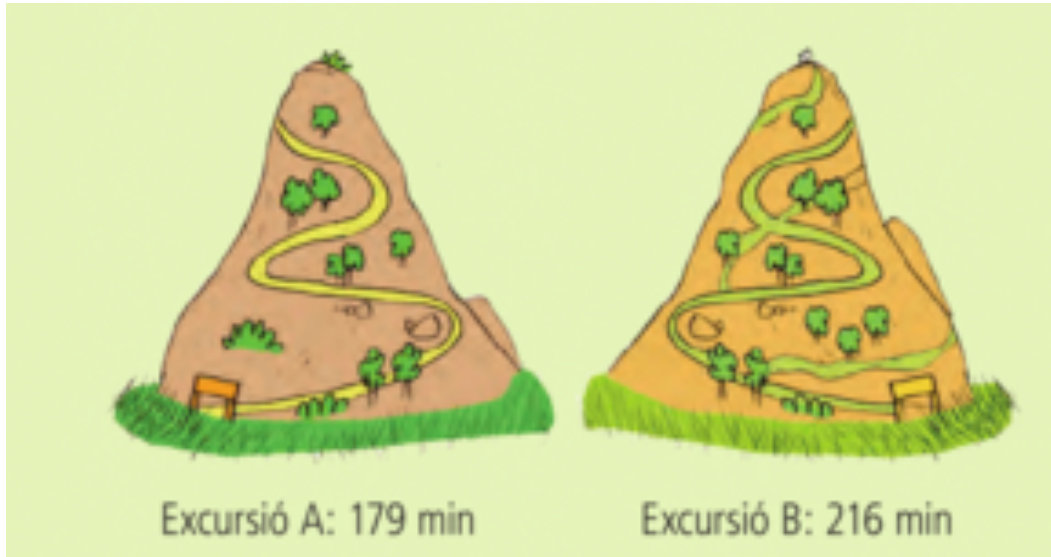


4

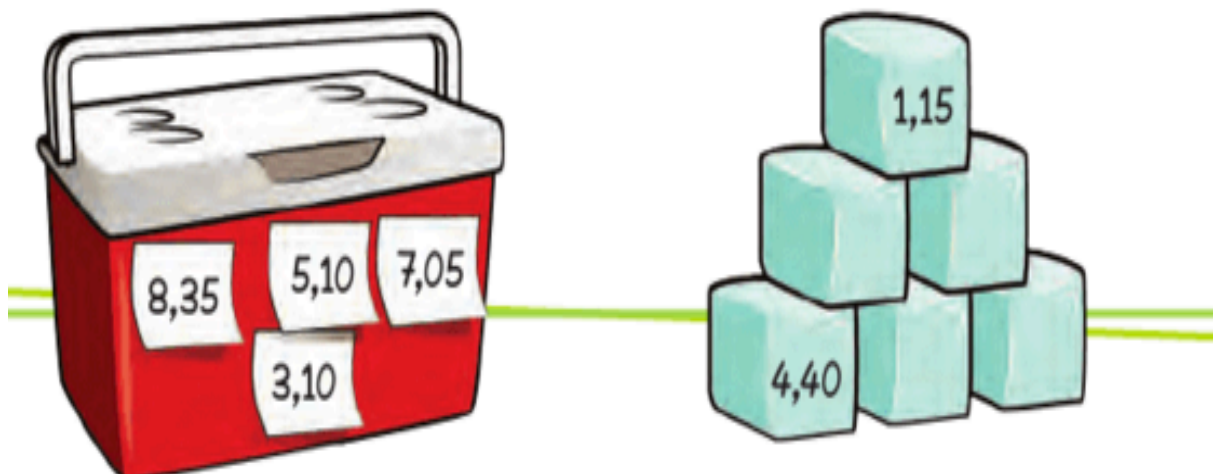
En Lluc compra una olla per 139,45 € i una liquadora per fer sucs per 43,79 €. Si paga amb un bitllet de 200 €, quant li tornaran? Comprova'n el resultat amb la calculadora.



Expressa en hores i minuts la durada de les excursions següents:



Copia i completa al teu quadern amb els nombres de la nevera perquè el resultat de sumar els tres glaçons de cada costat sigui 12,6.





Vols comprar-te unes samarretes i has entrat a tres botigues diferents. A cada una tenen un preu i una oferta diferents.

Confeccions Ganga

Lot de
3 samarretes
18,99 €.



Magatzems Econòmics

Si te n'emportes
2, la segona
unitat et surt a
meitat de preu.



Botiga De Saldo

Emporti-se'n 3
i paguin 2.



- Si vols comprar tres samarretes, a quina botiga gastaries menys diners?
- Si vols aprofitar les ofertes, a quina botiga surt més barata la unitat?
- Si només necessites comprar una samarreta, a quina botiga la compraries? Per què?